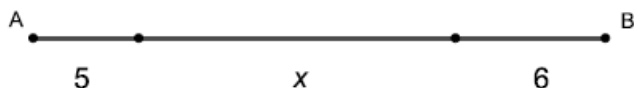


Příloha – Zadání testových úloh

TESTOVÉ ÚLOHY – 6, 7 ročník

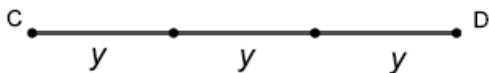
Úloha A1:

Zapiš délku úsečky AB .



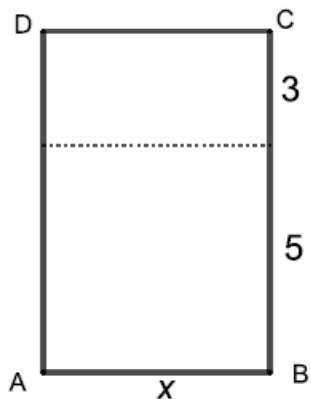
Úloha A2:

Zapiš délku úsečky CD .



Úloha A3:

Zapiš obsah a obvod obdélníku $ABCD$.



Úloha A4:

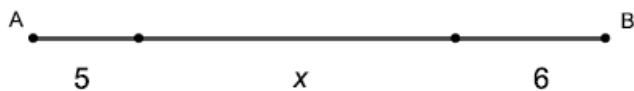
Zapiš obsah a obvod obdélníku $ABCD$.



TESTOVÉ ÚLOHY – 8. ročník

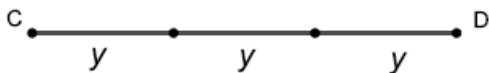
Úloha A1:

Zapiš délku úsečky AB .



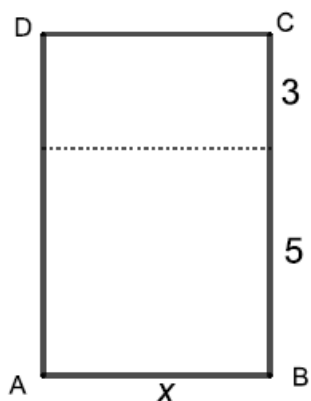
Úloha A2:

Zapiš délku úsečky CD .



Úloha A3:

Zapiš obsah a obvod obdélníku $ABCD$.



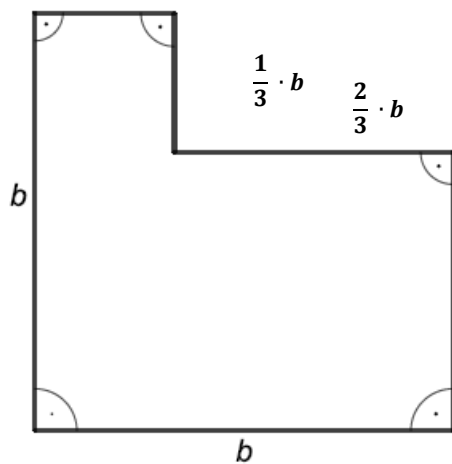
Úloha A4:

Zapiš obsah a obvod obdélníku $ABCD$.



Úloha A5:

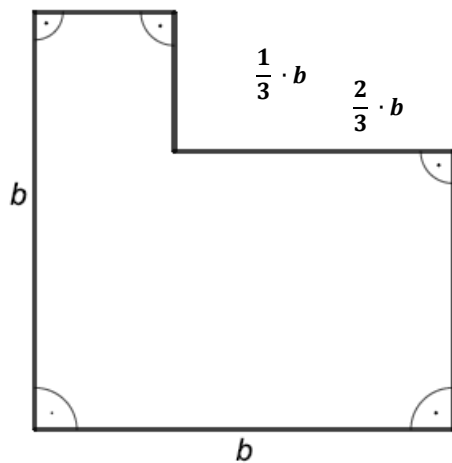
Zapiš obvod tohoto útvaru na obrázku.



TESTOVÉ ÚLOHY – 9. ročník

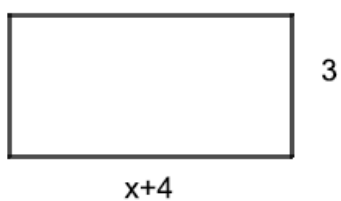
Úloha A5:

Zapiš obvod tohoto útvaru na obrázku.



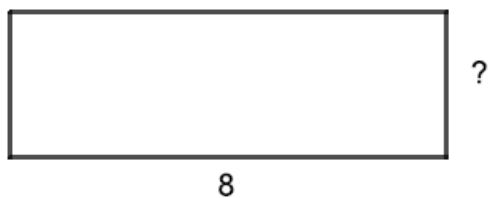
Úloha B1:

Zapiš výrazem obsah a obvod obdélníku a výraz uprav.



Úloha B2:

Obvod obdélníku $O = 16 + 4y$. Zapiš výrazem délku neznámé strany.

**Úloha B3:**

Napiš výraz, který vyjadřuje obsah a obvod útvaru na obrázku, který je složený ze tří shodných obdélníků, dané výrazy uprav.

**Úloha B4:**

Zapiš a uprav výrazy pro výpočet obsahu a obvodu tohoto obrazce.

