


PŘÍLOHY


Seznam příloh

Příloha č. 1: Žetony hráčů/skupin	i
Příloha č. 2: Žetony hráčů/skupin	ii
Příloha č. 3: Žetony hráčů/skupin	iii
Příloha č. 4: Žetony hráčů/skupin	iv
Příloha č. 5: Žetony hráčů/skupin	v
Příloha č. 6: Žetony hráčů/skupin	vi
Příloha č. 7: Žetony hráčů/skupin	vii
Příloha č. 8: Žetony hráčů/skupin	vii
Příloha č. 9: Návrhy políček pro hru OSA	ix
Příloha č. 10: Návrh hracího plánu pro hru DOBYVATEL	x
Příloha č. 11: Návrh výukových karet	xi
Příloha č. 12: Návrh výukových karet	xii
Příloha č. 13: Návrh výukových karet	xiii
Příloha č. 14: Návrh výukových karet	xiv
Příloha č. 15: Návrh výukových karet	xv
Příloha č. 16: Návrh na komiksy a meme	xvi
Příloha č. 17: Návrh na komiksy a meme	xvii
Příloha č. 18: Návrh na komiksy a meme	xviii
Příloha č. 19: Návrh na komiksy a meme	xix
Příloha č. 20: Seznam otázek pro hru OSA	xx
Příloha č. 21: Návrhy herních karet	xxviii
Příloha č. 22: Přežij středověk – návrh zápisového listu/deníku hráče	xxx
Příloha č. 23: Fotodokumentace testování hry	xxxii
Příloha č. 24: <i>Ukázka studií od výtvarnice Niny Danišové</i>	xxxviii
Příloha č. 25: <i>Ukázka ilustrací od výtvarnice Niny Danišové</i>	xxxix

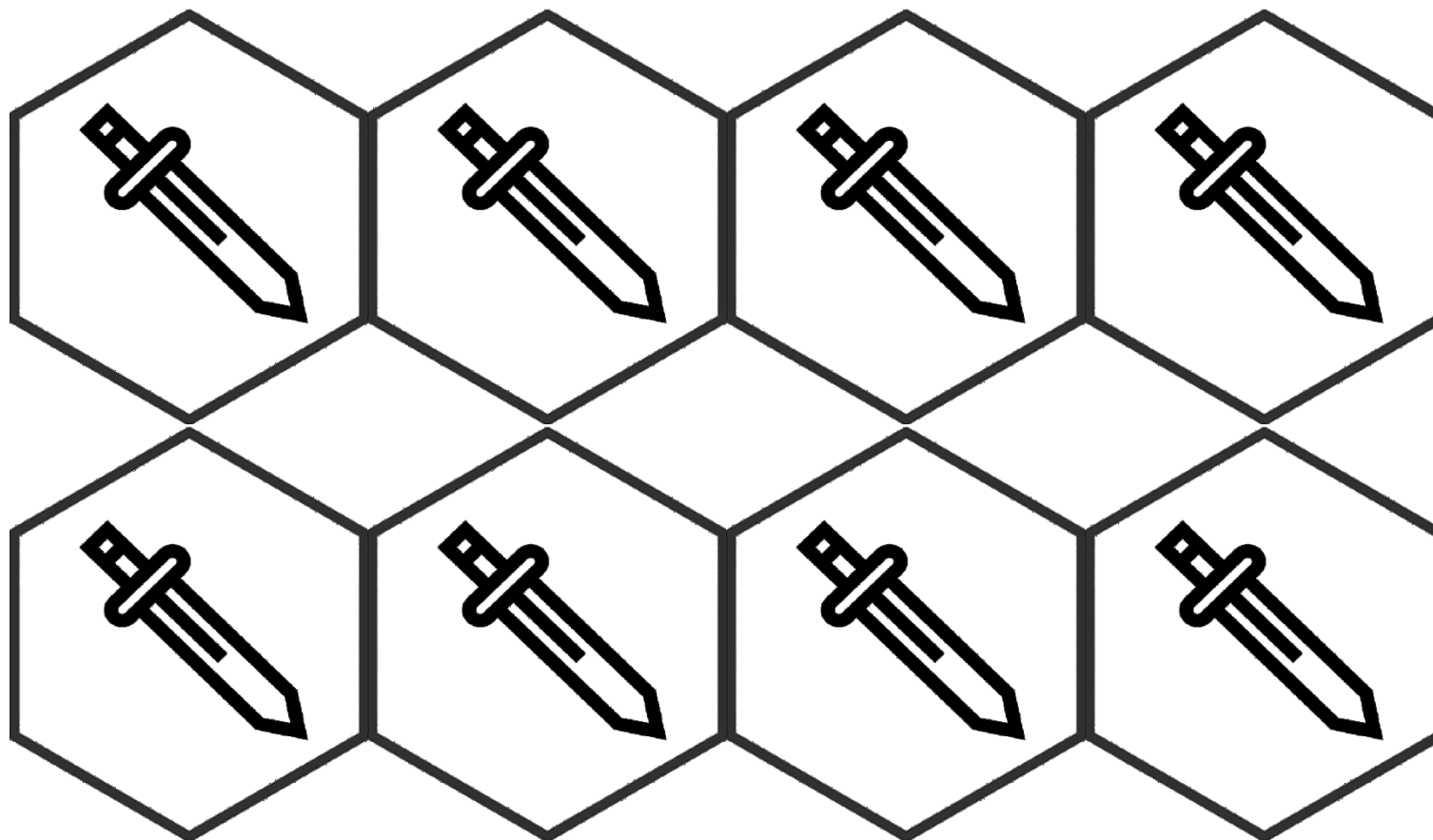
Příloha č. 1: Žetony hráčů/skupin



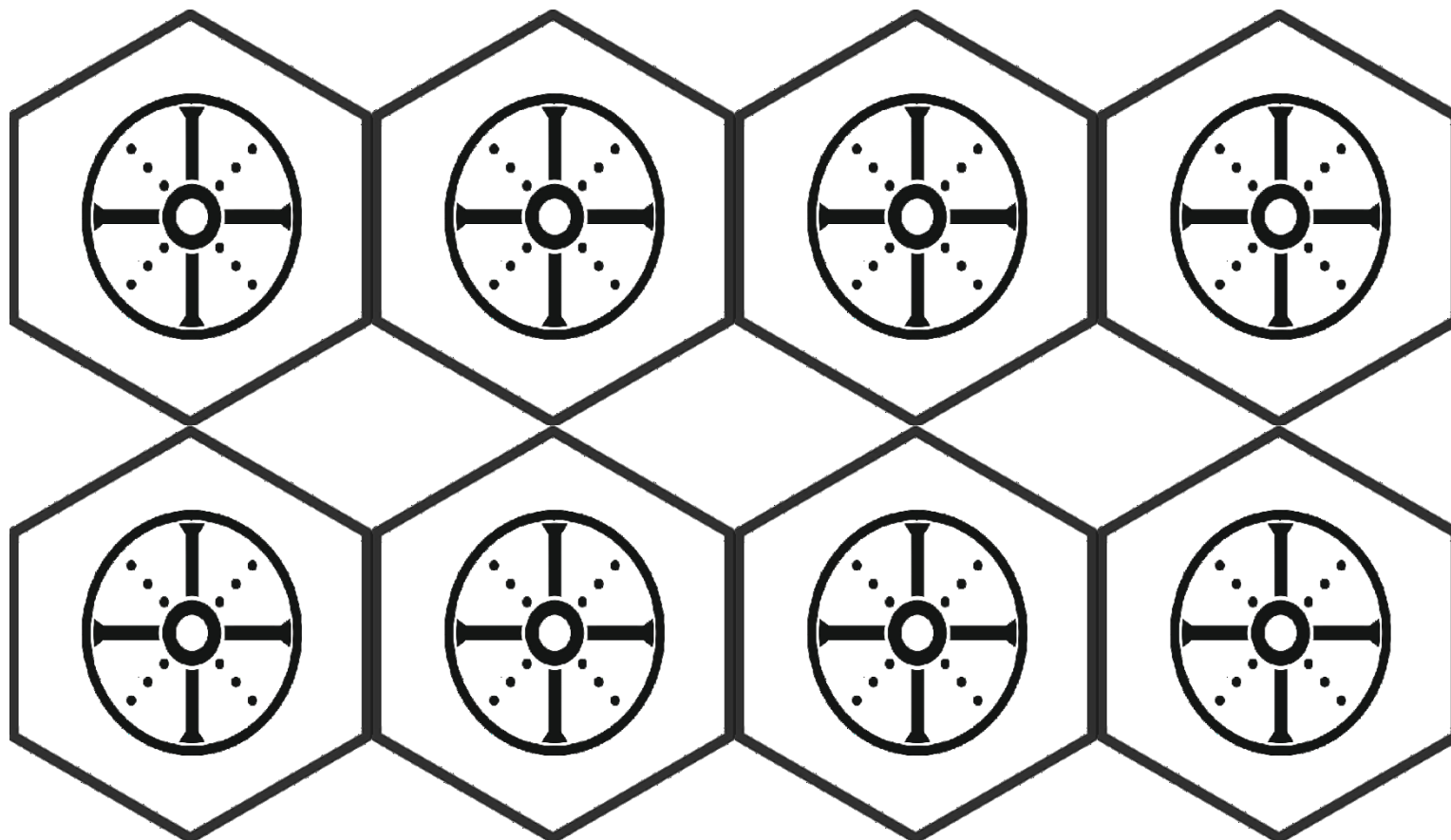
Příloha č. 2: Žetony hráčů/skupin



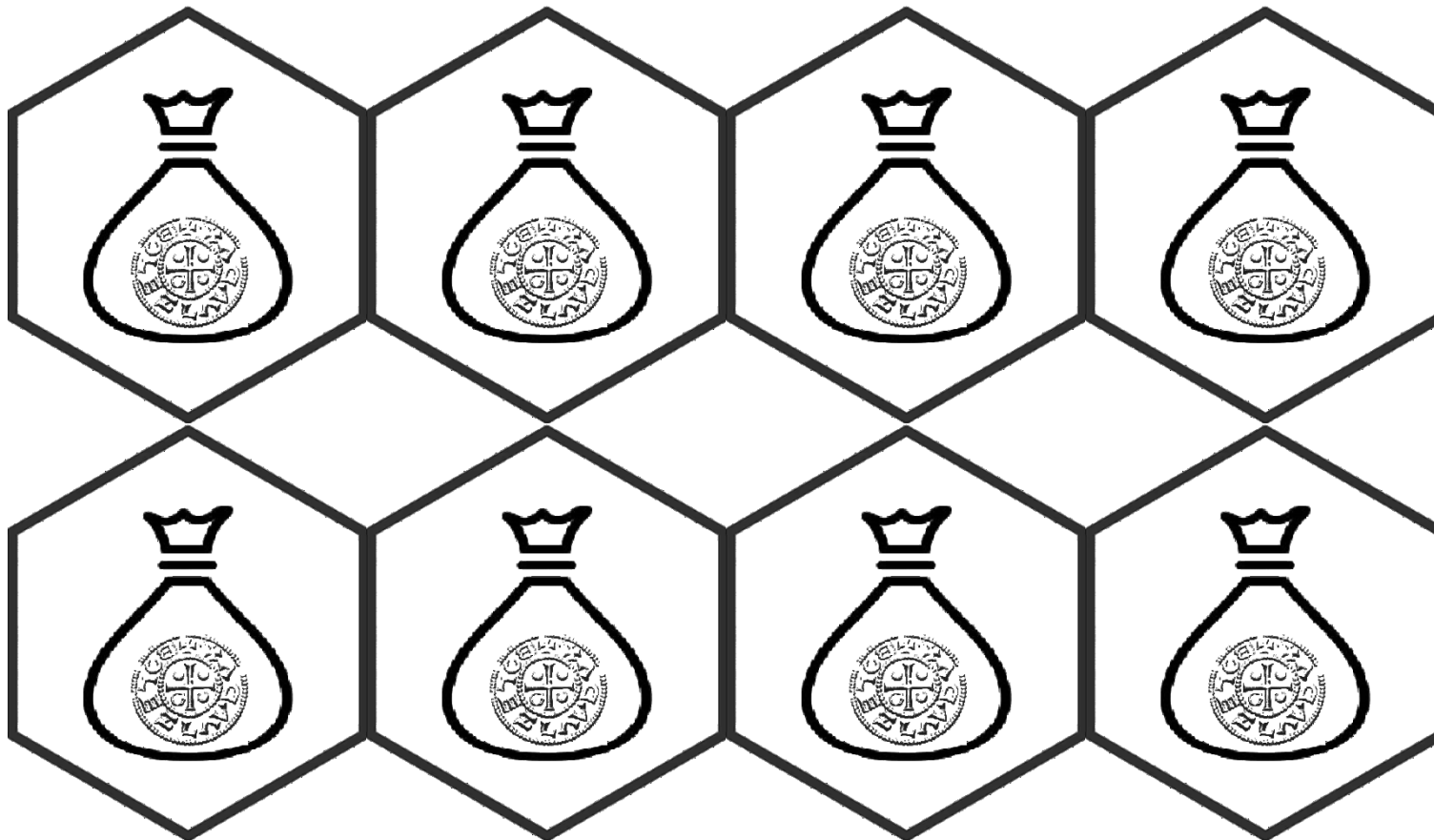
Příloha č. 3: Žetony hráčů/skupin




Příloha č. 4: Žetony hráčů/skupin



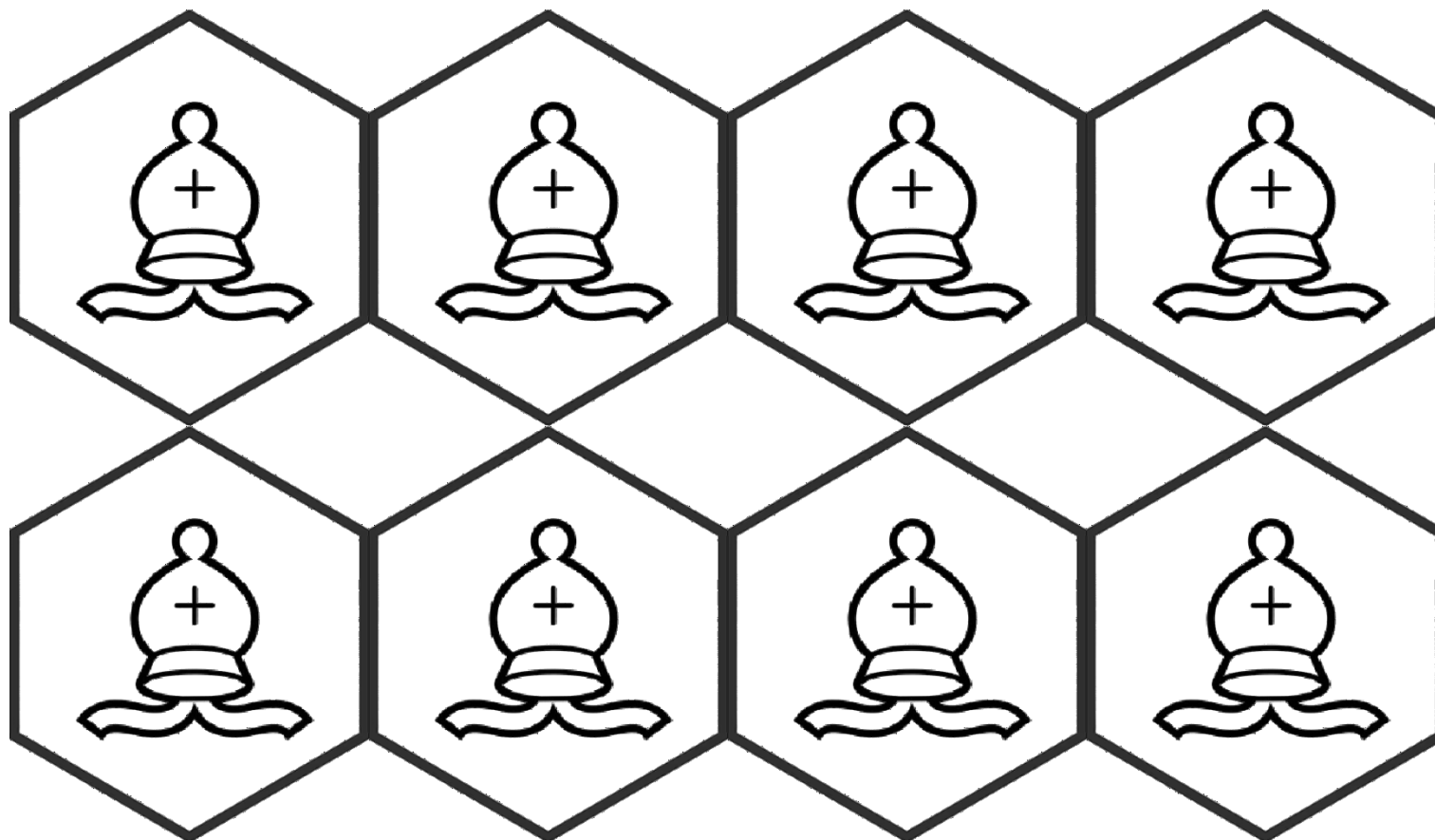
Příloha č. 5: Žetony hráčů/skupin




Příloha č. 6: Žetony hráčů/skupin




Příloha č. 7: Žetony hráčů/skupin



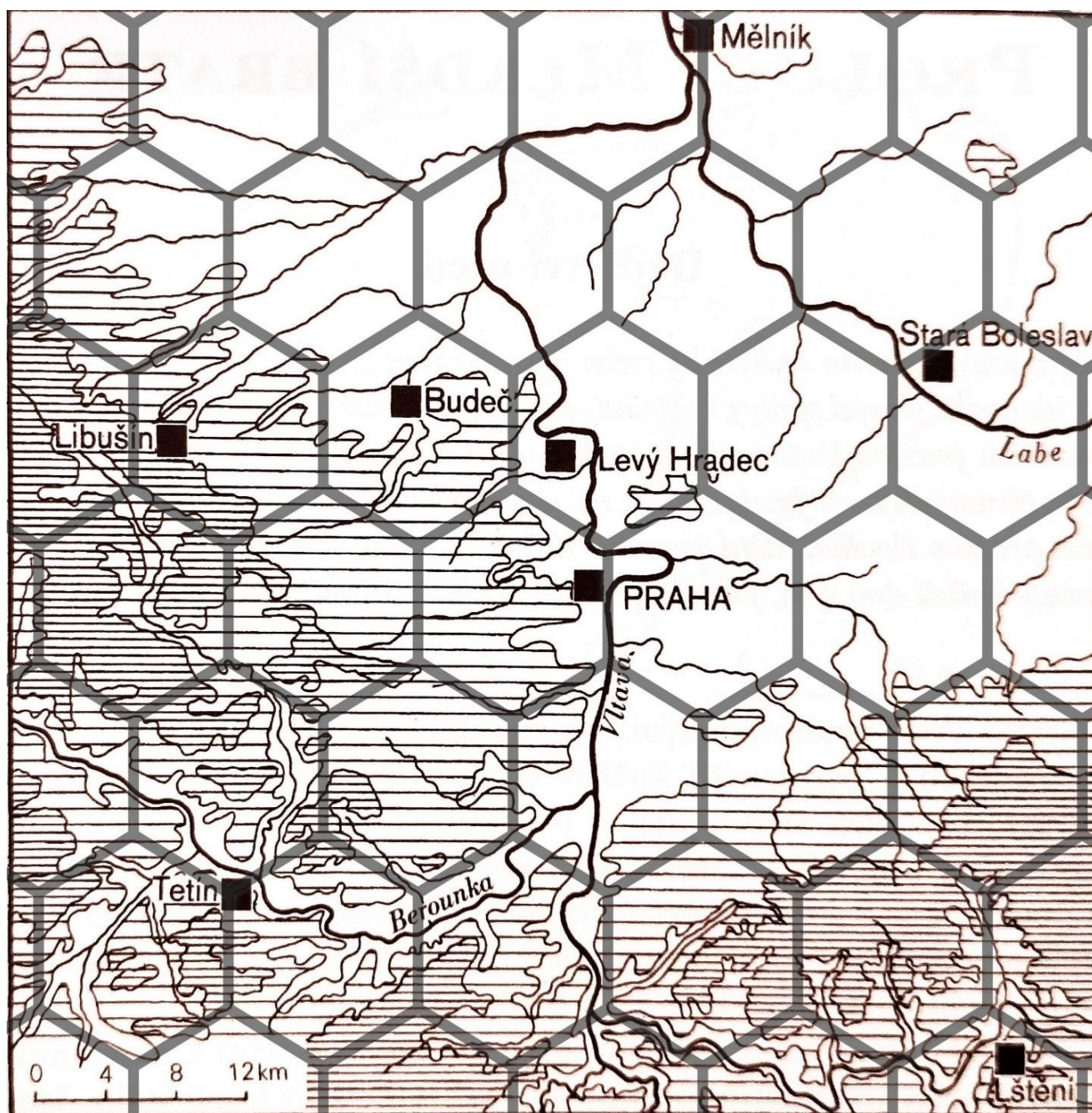
Příloha č. 8: Žetony hráčů/skupin



Příloha č. 9: *Návrhy políček pro hru OSA*



Příloha č. 10: Návrh hracího plánu pro hru DOBYVATEL.



Příloha č. 11: Návrh výukových karet

Bořivoj I.

Bořivoj byl naším prvním, prameny doloženým knížetem z původního českého rodu Přemyslovců. Byl prozíravým a bystrým panovníkem, který se spojil s moravským knížetem Svatoplukem a se svou manželkou Ludmilou, přijal na Moravě křest. Tak se symbolicky zařadil mezi mocné panovníky raně středověké Evropy. Kvůli tomu však musel doma čelit povstání předchozího neúspěšného kandidáta na knížecí stolec, Strojmíra, orientovaného spíše na Bavorsko.

Jeho sídlem bylo hradiště Levý Hradec, ležící přibližně 14 km severně od dnešního Pražského hradu. Na Levém Hradci dali Bořivoj s Ludmilou vystavět první kostel v Čechách zasvěcený sv. Klimentovi. Druhým byl kostel panny Marie v místech dnešního Pražského hradu.

S Ludmilou přivedl na svět dva své nástupce Spytihněva I. a Vratislava I. Byli však příliš mladí a po jeho smrti, někdy mezi lety 888-890, usedl na český knížecí stolec moravský kníže Svatopluk.

Popis obrázku: Bořivoj je zobrazen jako raně středověký velmož, oblečený do vlny a lnu s koženým opaskem a obuví. Oděv je volen spíše chudší a doplňky jako plášť nebo ovinky jsou v bohatých barvách, aby vyniklo, že takto volené barvy byly vzácností. Nákrčník poukazuje na to, že i on byl válečníkem. Sekera je zvolena jako typická zbraň Slovanů a odkazuje na starší dobu, kdy meče byly symbolem bohatství a moci.

Co mu říct: Ta Morava, to byl majstrštyk!

Vyvarujte se: Chceš-li válku, Strojmir!

Poznámka: Měl být/byl zdatným válečníkem, když se jeho jménem stalo boření vojsk. Boří Voj.



Příloha č. 12: Návrh výukových karet

Ludmila

Ludmila byla naší první kněžnou, manželkou knížete Bořivoje I. a matkou dvou následníků knížecího stolce, Spytihněva a Vratislava. Společně s Bořivojem přijala na Moravě křest z rukou slavného arcibiskupa Metoděje a stal se horlivou křesťankou. Podpořila stavbu kostelů a snažila se o rozšíření víry v Přemyslovských državách (spravovaném zemi).

Její život nebyl snadný. Provдалa se do cizího kmene, porodila nejméně šest dětí, čelila povstání a po smrti svého manžela se stala hlavně ochránkyní svých synů a jejich majetku, jelikož vláda v Čechách byla svěřena moravskému knížeti Svatoplukovi. Když se Spytihněv a Vratislav stali českými knížaty, podporovala jejich vládu a v ústraní se věnovala víře v nového boha a jeho syna. Po smrti svého druhého knížecího syna Vratislava se opět vrátila do politického života a jako bývalá kněžna působila na výchovu svých vnuků, zejména Václava. Takovéto zásahy do pravomocí ale nevzala dobře její snacha, vdova a současná kněžna. Správkyně českého knížectví, Drahomíra. Jejich mocenský boj ukončila chladně vykalkulovaná vražda Ludmily, 15. září 921 na jejím hradišti Tetín. Za svou horlivou víru a násilný konec života byla prohlášena za svatou.

Popis obrázku: Ludmila je oblečena prostě, do běleného lnu, jako služebnice boží a její příslušnost k nobilitě naznačuje modrá barva lemů oděvu a tkaný vlněný opasek/šál. Pod svrchním šatem se schovává tenká vlněná tunika a kožené boty. Její zbožnost a odhodlání šířit křesťanskou víru představuje zlatý kříž v její pravé ruce a zaťatá pěst ruky levé. Obraz zachycuje Ludmilu v mladším věku, kdy již byla matkou a do Václavovy „svaté báby“ má ještě mnoho zim.

Co jí říct: Pojďme založit nějaký kostel.

Vyvarujte se: Vezmi si šálu, je chladno...

Poznámka: I když se zdá, že se do všeho neustále montovala, zůstala Lidu milá. Ludmila.



Příloha č. 13: Návrh výukových karet

Václav I. Svatý

Je synem knížete Vratislava I. a Drahomíry, bratrem Boleslava I. Ukrutného, 1. českým světce, svatým patronem a ochráncem českých zemí. K roli dobrého křesťanského vládce byl veden svou babičkou Ludmilou a vedle císaře Karla IV. je Václav I. Svatý naším nejznámějším panovníkem.

O jeho životě máme pouze hagiografické (psaní o svatých) záznamy a nepřímé zmínky. Kult Václava je vystavěn na víře a zázracích, které údajně Václav za živa i po smrti vykonal. Povídání o Václavovi a jeho zázracích podporoval i jeho bratr Boleslav I., jehož přičiněním odešel Václav ze života. Díky této podpoře získal Boleslav I. českého světce a možnost zřídit biskupství. Václav se tak stává patronem českých zemí a věčným svatým ochráncem státu.

Popis obrázku: Václav je zde vyobrazen ve své „tradiční“ výzbroji, ve které shlíží z koně na Václavském náměstí. V ruce drží své kopí a kříž, ke kterému vzhlíží spíše než ke své zbrani. Víra je jeho silou a zbraní. Václav je oděn do spodních lněných oděvů, přes které jsou vlněné svršky. Oděv vypadá prostě, ale drahocenná kroužková zbroj a modrá a červená barva oděvu prozradí, že patří k vládnoucí vrstvě.

Co mu říct: Svatý Václave, nedej zahynouti nám, ni budoucím.

Vyvarujte se: Jdi se bodnout!

Poznámka: I když svým sourozencům věříte, hlídejte si záda. Důvěřuj, ale prověřuj!



Příloha č. 14: Návrh výukových karet

Boleslav I. Ukrutný

Boleslav I. Ukrutný, neblahý katan, Bratrovrah a tvůrce státu. Dějinami, zejména křesťanskými, zatracovaný panovník, který sjednotil Čechy, získal Krakov a Červené hrad, sousedící s Kyjevskou Rusí. Bratrovrah, který svého bratra vynesl na nebesa a učinil z něj našeho prvního světce. Hrdý kníže, který se postavil římskému králi, vedl s ním vyrovnaný boj a nakonec uzavřel spojenectví. Dal razit první české mince – stříbrné denáry, na hranicích knížectví stavěl pevnosti a strážní hrad, dojednal zřízení biskupství, pomohl definitivně porazit Maďary a tiše podporoval legendy o svém bratru.

Za jeho vlády se stalo české knížectví silným a prosperujícím státem, který bohatl z mezinárodního obchodu v Praze. Boleslavova moc sahala od Čech až ke Kyjevské Rusi mocného Svjatoslava a jeho syna Vladimíra. Prahu jako velkolepé město popisuje vyslanec a cestovatel Ibráhím ibn Jákúb: „...co se týče země Bújislava tedy její délka od města Frága až k městu Kráková rovná se cestě tři týdnů a hraničí po celé délce se zemí Turků. Město Frága je vystavěno od kamene a vápna a je největším městem co do obchodu. Přichází sem z města Kráková Rusové a Slované se zbožím. A z krajín Turků muslimové, židé a Turci rovněž se zbožím a obchodními mincemi. Ti vyváží od nich otroky, cín a různé kožešiny.“

Popis obrázku: Boleslav v ironickém úšklebku sleduje svou roli v českých dějinách a baví se nad legendou, kterou sám vytvořil. Je oděn do kroužkové zbroje a opírá se o meč neznámé germánské, zřejmě franské, produkce. Je oděn do jemného knížecího vlněného oděvu s červeným pláštěm, modrou tunikou a zelenými kalhotami. Dává na odív svou vojenskou i politickou moc.

Co mu říct: „Je-li vaším svatým Václav, naším je Boleslav!“

Vyvarujte se: Schovej ten meč nebo někomu ublížíš...

Poznámka: Můžete se přetrhnout a všechno dělat správně, ale stejně vám všichni budou vyčítat a připomínat tu jednu malou chybičku.



Příloha č. 15: Návrh výukových karet

Boleslav III. Ryšavý

Boleslav III. Ryšavý, nejstarší syn knížete Boleslava II. a bratr knížat Jaromíra a Oldřicha. Jeho tvrdá a násilnická vláda způsobila zmátek a krizi raného přemyslovského státu. Jeho snaha odstranit oba své bratry vyvolala téměř občanskou válku a nečekaně oslabil knížectví. Boleslav nechal vykastrovat Jaromíra a pokusil se zabít Oldřicha, aby se zbavil případné konkurence a zajistil svým potomkům volnou cestu na knížecí stolec. Tím ovšem dal možnost císaři Jindřichovi II. a polskému králi Boleslavu Chrabrému možnost na připojení Českého knížectví do svých panství. Když proti němu povstal rod Vršovců, uprchl nejprve do Bavorska, kde byl zajat, a potom k Boleslavovi Chrabrému. Tomu slíbil, že už bude hodný a nechal se dosadit zpět. Ale jeho krvavá pomsta Vršovcům nezůstala bez povšimnutí a polský Boleslav si pro něj dojel, uvěznil ho a oslepil. Boleslav III. Ryšavý tak umírá v polském zajetí bez následníka a bez knížectví, které chtěl mít jen pro sebe.

Popis obrázku: Boleslav je v ráži a hrozí pěstmi svým sokům. Možná bratrům, možná Vršovcům. Jeho prudká násilnická povaha se zde dere na povrch. Je oděn vznešeně a bohatě, v pestrých barvách, s teplou kožešinou na ramenou, která se mu jistě ve vyhnanství bude hodit.

Co mu říct: Dvakrát řež, až potom řeš.

Vyvarujte se: Hlavně se uklidni...

Poznámka: Kdo chce víc, nemá nic. Chtěl mít vše pro sebe a zamřel v zapomnění a bez ničeho a nikoho. Kdyby byl úspěšný, mohl se třeba stát mocným panovníkem a dobyvatelem.



Příloha č. 16: Návrh na komiksy a meme



Příloha č. 17: *Návrh na komiksy a meme*



Příloha č. 18: *Návrh na komiksy a meme*



Příloha č. 19: *Návrh na komiksy a meme*

Že mě tu Prusové nechtějí?
Pitomost. Počkej jakou
budou mít radost, až zjistí, že
jsem tu jejich hloupou
pohanskou modlu pokácel...



Příloha č. 20: *Seznam otázek pro vědomostní hru – OSA*

Témata otázek podle barvy: **Modrá** – událost, **Zelená** – osobnost, **Hnědá** – kultura, **Fialová** – náboženství, **Černá** – MOR – Kolo nehraješ /nebo odevzdej jedno políčko, které vlastníš. Toto pole je záchytné, když nesplníš jiný budoucí úkol. **Červená** – Konflikty, **Oranžová** – letopočet (u roku možnost otázky pro doplnění informací)

Čísla jsou jen orientační. Karty budou bez čísel a vybrání otázky bude náhodné, čímž je zaručena variabilita a téměř nekonečná hratelnost.

Modrá

1. Kam se 14 místních knížat vydalo na křest? Jmenuj město.
2. Koho si Bořivoj vzal za manželku? Uveď jméno.
3. Uveď na jakou víru konvertoval Bořivoj na Moravě?
4. Za jaké situace vládl moravský kníže Svatopluk v Čechách? Popiš důvod.
5. Uveď, jaký státní útvar byl zničen Maďary v roce 907?
6. Jakým výzvám musel čelit Bořivoj po návratu z Moravy? Uveď 2.
7. Koho kníže Vratislav pojal za manželku? Jmenuj osobnost.
8. Uveď, jak Vratislav pojmenoval své syny?

9. Dokončete větu: Václav byl v Boleslavi ...

10. Popište, jaké kroky podnikl Boleslav I., když se chopil moci

11. karta **Břetislav I.** splň úkol - získej jedno libovolné další kulturní políčko bez další otázky.

12. Koho Boleslav I. s Otou I. porazili v bitvě na Lechu. Jmenuj nájezdníky.

13. MOR

14. Který přemyslovský panovník razil první mince v českých zemích? Uveď, jak se tato mince jmenovala.

15. Popiš, jak se zachovali Maďaři po bitvě na Lechu?

16. Popiš, jak přispěli Boleslav I. a II. k založení biskupství?

17. Uveď, co se v roce 955 stalo s rodem Slavníkovců?

18. Uveď důvod sporu Vojtěcha s Boleslavem II.

19. Ukaž na mapě, kam Vojtěch zamířil na misií?

20. Popiš, jak zemřel Vojtěch?

21. Uveď, jak Boleslav Chrabrý získal Vojtěchovy ostatky?

22. Popiš jakými způsoby byl Jaromír zmrzačen a zabit?

23. Jakým činem získal kníže Oldřich Boženu? Krátce vyprávěj.

24. Uveď, kde zemřel Boleslav III.

25. Uveď důvod, proč vládl Vladivoj jeden rok?

26. karta **Drahomíra** –splň posuň se o dvě pole vpřed, selži a jdi o 5 zpět.

27. Jakým činem získal kníže Břetislav Jitku? Krátce vyprávěj

28. Uveď, jak získal Břetislav I. Vojtěchovy ostatky?

29. Uveď, jak a kde vyhlásil Břetislav své zákony?

30. Jak kníže Břetislav změnil pravidla pro nástupnictví? Krátce popiš

Zelená

1. Kdo je autorem nejstarší české kroniky? Uveď jméno

2. Jak zemřel sv. Vojtěch? Krátce povyprávěj

3. Uveď, z jakého rodu pocházel sv. Vojtěch?

4. Uveď jméno manželky prvního, historicky doloženého českého panovníka.

5. Popiš, jak zemřel sv. Václav. (zavražděn)

6. Uveď, jaký rodinný vztah byl mezi Ludmilou a Boleslava I.?

7. Uveď, který panovník připojil k českému knížectví území „Červených hradů“ a jaký mělo toto území význam?

8. Kteří dva panovníci mají zásluhu na založení pražského biskupství? Jmenuj je.

9. **Karta Boleslav I.** –úkol –splňš vyměníš si místo s jedním ze soupeřů.

10. Je pravdivé toto tvrzení: Boleslav II. vydal rozkaz vyvraždit Slavníkovce. ANO x NE ?

11. Který český biskup se nepohodl s Boleslavem II.? Jmenuj ho.

12. Který z Boleslavů byl zván Ryšavým?

13. MOR

14. Který z Přemyslovců byl vykastrován? Jmenuj ho.

15. Kteří synové Boleslava II. byli oslepeni? Jmenuj je.

16. Která pradelna „padla do oka“ knížeti Oldřichovi? Uveď jméno.

17. Který ze synů Boleslava II. žil nejdéle? Jmenuj ho.

18. Jak se jmenoval panovník dosazený Boleslavem Chrabrým a vládl necelý rok?

19. Uveď, v jakém rodinném vztahu k sobě byli Boleslav II. a Boleslav Chrabrý?

20. Který ze synů Boleslava II. připojil Moravu k Čechám? Jmenuj ho.

21. Uveď jméno knížete, který byl synem Oldřicha a Boženy.

22. Čí ostatky vykoupil Boleslav Chrabrý od pohanských Prusů? Jmenuj světce.

23. Který panovník ukradl ostatky sv. Vojtěcha a převezl je do Čech? Uveď jméno.

24. Uveď jméno ženy, kterou Břetislav ukradl z kláštera a učinil ji svou kněžnou?

25. **karta Bořivoj I.** – splniš- můžeš přivolat jednoho z hráčů k sobě. Bez dalšího úkolu.

26. První český zákoník vyhlásil kníže Břetislav nad hrobem významného muže. Uveď, čí hrob to byl?

27. Který císař uzavřel přátelství a spojení s Boleslavem I.? Jmenuj ho.
28. Který český panovník poslal válečníky do bitvy na Lechu? Uveď jméno.
29. Uveď jméno prvního českého biskupa.
30. 8. pražským biskupem a autorem nejstarší české kroniky byl? Uveď jméno.

Hnědá

1. Kde se nachází nejstarší fresky s vyobrazením prvních Přemyslovců? Uveď místo.
2. Na kterém významném místě v Praze se nachází rotunda sv. Martina? Uveď místo
3. Přemyslovci v Praze sídlili na dvou místech, uveď tato místa?
4. Co znamená slovo „*Iluminace*“?
5. Jakým způsobem se šířily ve středověku knihy? Krátce popiš.
6. Vysvětli, co byl *Kodex* a jaký význam toto slovo má dnes? (svazek listů v tuhých deskách)
7. Vyjmenuj základní znaky románské architektury. (valená klenba, silné zdi, malá okna)
8. Vysvětli co je „*refektář*“? (Klášterní jídelna)
9. Jak se jmenovaly první Přemyslovci ražené mince? Uveď název.
10. Vysvětli, od čeho je odvozeno slovo *platit*?
11. Z jaké kultury vychází Románský sloh? Uveď název.

12. **Božena** splň – pokud máš úplně čisté oblečení, posuň se na č. 14. Bez další otázky. (zhodnotí spoluhráč/učitel)

13. MOR

14. Uveď, jak se nazývá malba do vlhké omítky? Freska

15. Kde se nachází slavná křivá zvonice v románském slohu? Uveď místo. (nápopěda: tzv. šikmá věž)

16. Náš nejstarší dochovaný hrad je? Uveď název

17. Uveď, na kterém významném místě se nachází rotunda sv. Jiří?

18. Nejstarším kostelem postaveným v Čechách byl/je ? Uveď stavbu.

19. Vyjmenuj 3 slovanské bohy.

20. Největší slovanskou svatyní byla? Uveď místo

21. Uveď název nejstarší české kroniky.

22. Uveď názvy dvou nejstarších zákoníků v Čechách i na Moravě. (B. dekreta nebo Morava zákon sudnyj ljudem)

23. Uveď název prvního (původního) sídla Přemyslovců?

24. Uveď název hradiště, které bylo sídlem Slavníkovského rodu.

25. Hrdina, který vedl Čechy ve válce proti Lučanům, se podle Kosmy jmenoval. Uveď jméno

26. Vyjmenuj 3 bájná přemyslovská knížata, podle Kosmovy kroniky.

27. Kníže Vratislav I. založil na Pražském hradě baziliku. Komu ji zasvětil? Jmenuj světce

28. **karta sv. Václav** – úkol-splňíš – vyber si spoluhráče/tým utvoř jeden tým a sdílej získaná políčka.

29. 1. abatyše 1. ženského kláštera při sv. Jiří byla dcera Boleslava I., uveď, jak znělo její jméno?

30. Jakým názvem se označuje posvátné místo k nastolování českých vládců? Uveď název místa.

Fialová

1. Uveď, který český mužský klášter je nejstarší? (Benediktýnský Břevnov)

2. Uveď jméno zakladatele/ů Sázavského kláštera podle pověsti.

3. Jak se jmenuje slovanský bůh - hromovládce? Uveď jméno

4. Jaké náboženství začali slovanští vládcí přijímat okolo roku 800 (v 1/2 9. St.)?

5. karta Sv. Vojtěch – úkol – posune tě o **3 pole dopředu bez další otázky.**

6. Popiš okolnosti vzniku kostela sv. Klimenta. (proč, kdo, kde)

7. Kníže Vratislav I. založil na Pražském hradě baziliku, uveď její název.

8. Nejstarším kostelem v Čechách... Uveď jeho název.

9. Uveď, kdo byl Dětmar.

10. Uveď jméno 2. pražského biskupa.

11. Kde byl založen 1. ženský klášter u nás? Uveď místo

12. Kdo byla Mlada? Vysvětli její význam v dějinách.

13. MOR

14. Vysvětli, co znamená hagiografie?

15. Krátce popiš co je tématem křesťanské legendy?

16. Který český kníže přijal jako 1. křest a kde k tomu došlo? Uveď jméno a místo

17. Vyjmenuj první 4 české světce.

18. Uveď 2 příklady hagiografie (křesťanských legend).

19. Vysvětli, kdo je to mučedník.

20. **karta Boleslav II.** splň úkol – získej jedno libovolné další náboženské políčko bez další otázky.

21. Popiš, jak zemřela sv. Ludmila?

22. Uveď jména vrahů kněžny Ludmily.

23. Jaký typ křesťanství byl na území ČR první? Uveď název

24. Uveď, s jakým klášterem je spojován sv. Prokop.

25. **Spytihněv** – uspěj jdi o dvě pole vpřed, selži, jdi zpět na pole 5, bez otázky.

26. Uveď jména dvou panovníků, za jejichž vlády byl biskupem Šebíř.

27. Uveď jména obou panovníků, kteří se zasloužili o pražské biskupství.

28. Jmenuj alespoň jednu legendu o sv. Václavovi.

Na Kyjevské Rusi získaly velkou popularitu legendy o dvou českých světcích. Uveď jména těchto světců.

30. Který církevní řád se v Čechách usídlil první? Uveď název

Oranžová

1.karta **JAROMÍR** splň a získej ochranu proti moru.

2. Uved' událost českých dějin, která se váže k roku 872 – zmínka o Bořivojovi (anály Fulda)

3. Uved' událost českých dějin, která se váže k roku 845 – 14. Knížat do Řezna na křest

4. Uved' událost českých dějin, která se váže k datu 15. září 921 – zavraždění Ludmily

5. Uved' událost českých dějin, která se váže k datu 28. září 935 – zavraždění Václava

6. Uved' událost českých dějin, která se váže k roku 950 - spolenectví s Otou I.

7. Uved' událost českých dějin, která se váže k roku 966 – Ibráhím ibn Jákub – o Praze

8. Uved' událost českých dějin, která se váže k datu 10. srpna 955 – bitva na Lechu, porážka Maďarů.

9. Uved' událost českých dějin, která se váže k roku 972/3 – Biskupství pražské

10. karta **Vratislav** splň – záchytný bod, nic tě nemůže vrátit zpět.

11. Uved' událost českých dějin, která se váže k roku 976 – založen klášter sv. Jiří

12. Uved' událost českých dějin, která se váže k roku 982 – Vojtěch biskupem pražským

13. MOR

14. Uved' událost českých dějin, která se váže k datu 14. ledna 993 – založen Břevnovský klášter

15. Uved' událost českých dějin, která se váže k datu 28. září 995 – Vyvraždění Slavníkovců

16. Uved' událost českých dějin, která se váže k roku 1001 - počátek krize, Jaromír a Oldřich prchají do Bavorska

17. Uved' událost českých dějin, která se váže k roku 1002-1003 – Vláda Vladivoje, (Čechy jako léno císaře)

18. Uved' událost českých dějin, která se váže k roku 1032 – založení Sázavského kláštera Oldřichem a Prokopem

19. Uved' událost českých dějin, která se váže k roku 1031 – Dobyetí Moravy, připojení k Čechám

20. Uved' událost českých dějin, která se váže k roku 1054 – Břetislav I. ustanovuje seniorát

21. Uved' událost českých dějin, která se váže k roku 1039 – vyhlášeny Břetislavovy dekrety

22. Uved' událost českých dějin, která se váže k roku 1055 – umírá Břetislav I.

23. Uved' událost českých dějin, která se váže k roku 1001 – Jaromír vykastrován

24. **karta Ludmila** – úkol- splniš vyber a věnuj jedno políčko náboženství někomu z protihráčů.

25. Uved' událost českých dějin, která se váže k roku 1034 – Jaromír oslepen

26. Uved' událost českých dějin, která se váže k roku 1003 – první vyvraždění Vršovců Boleslav III.

27. Uved' událost českých dějin, která se váže k roku 1014 – druhé vraždění Vršovců Oldřich

28. Uved' událost českých dějin, která se váže k roku 907 – Rozvrácení Velké Moravy Maďary

29. Uved' událost českých dějin, která se váže k roku 883 – Bořivoj přijímá křest/povstání v Čechách

30. Uved' událost českých dějin, která se váže k roku 929 – 1. Zmínka o Pražském hradě.

Červená

1. Čí nájezdy ohrožovaly v 9. a 10. Století Evropu? Jmenuj

2. Uved', jaký konflikt nebo bitva českých dějin se váže k roku 907 – rozvrácena Velká Morava

3. Zjistěte, jaký konflikt nebo bitva, českých dějin se váže k roku 872 – bitva u Vltavy

4. Zjistěte, jaký konflikt nebo bitva českých dějin se váže k roku 883 – povstání proti Bořivoji I.

5. Uved', jaký konflikt nebo bitva českých dějin se váže k datu 10. 8. 955 – Bitva na Lechu

6. Zjistí, jaký konflikt nebo bitva českých dějin se váže k roku 936 – Boleslav I. poráží „podkrále“ a jeho saské spojence

7. Zjistí, jaký konflikt nebo bitva českých dějin se váže k roku 936 - 14letá Saská válka – Ota I. x Boleslav I.

8. Zjistí, jaký konflikt nebo bitva českých dějin se váže k roku 976 – Poráží Boleslav II. Otu II. u Plzně

9. karta **Boleslav III.** – splň úkol – a znič dvěma soupeřům jedno získané políčko.

10. Zjistí, jaký konflikt nebo bitva českých dějin se váže k roku 981 – Kyjevský kníže Vladimír dobývá Červené hrady /Boleslav II. ztrácí

11. Uved', jaký konflikt nebo bitva českých dějin se váže k roku 1040 – bitva u Brůdku a Chlumce porážka Jindřicha III.

12. Zjistí, jaký konflikt nebo bitva českých dějin se váže k roku 990 – Měšek I. dobývá na Boleslavovi II. Slezsko

13. MOR

14. Zjistí, jaký konflikt nebo bitva českých dějin se váže k roku 992 – Boleslav II. a Ota II. tažení proti pobaltským Slovanům

15. Uved', jaký konflikt nebo bitva českých dějin se váže k roku 995 – vyvraždění Slavníkovců

16. Zjistí, jaký konflikt nebo bitva českých dějin se váže k roku 999 - Boleslav Chrabrý dobývá na Česích Krakovsko

17. Uved', jaký konflikt nebo bitva českých dějin se váže k roku 1003 -1. Vraždění Vršovců

18. karta **Oldřich** – splň, pokud jsi získal před tím Jaromíra nebo Boženu, postup o 3 pole bez další otázky.

19. Zjistí, jaký konflikt nebo bitva českých dějin se váže k roku 1004 – Císař vyhání Boleslava Chrabrého z Čech

20. Zjistí, jaký konflikt nebo bitva českých dějin se váže k roku 1017 – Oldřich odráží Boleslava Chrabrého.

21. Uved', jaký konflikt nebo bitva českých dějin se váže k roku 1031 – Dobytí Moravy, připojení k Čechám

22. Zjistí, jaký konflikt nebo bitva českých dějin se váže k roku 1014 – 2. Vraždění Vršovců

23. Zjistí, jaký konflikt nebo bitva českých dějin se váže k roku 1037 – 1. Břetislavovo tažení do Polska

24. Uveď, jaký konflikt nebo bitva českých dějin se váže k roku 1039 – Vpád Břetislava I. do Polska, Dobyť Hnězdna

25. Zjisti, jaký konflikt nebo bitva českých dějin se váže k roku 1042 -1043 – Břetislav a Císař -výpravy do Uher

26. Zjisti, jaký konflikt nebo bitva českých dějin se váže k roku 1040 -1041 – Břetislav I. prohrává a musí poddat císaři.

27. Zjisti, jaký konflikt nebo bitva českých dějin se váže k datu 5. července 1044- bitva u Menfö. vítězné tažení do Uher

28. Zjisti, jaký konflikt nebo bitva českých dějin se váže k roku 1070 – Vpád polského knížete Boleslava II. Smělého do Čech

29. Zjisti, jaký konflikt nebo bitva českých dějin se váže k roku 892 – Neúspěšný vpád Franků a Maďarů na Moravu

30. Uveď, jaký konflikt nebo bitva českých dějin se váže k roku 950 – mír a spojení Boleslav I. a Ota I.

SPECIÁLNÍ ÚKOLY – PANOVNÍCI

Břetislav I. – Ke kterému bájnemu řeckému hrdinovi je Břetislav I. připodobňován? Jmenuj hrdinu a krátce vyprávěj jeho příběh. Achilles

Drahomíra – O Drahomíře se traduje (zřejmě neprávem), že byla pohanka a věřila v bohy svých předků, a kvůli tomu neměla ráda křesťanku Ludmilu. Vyjmenuj alespoň 5 slovanských bohů. Triglav, Svantovít, Porevit, Radegast, Perun, Veles, Svarog, Dažbog, Mokoš, Morana...

Boleslav I. – Boleslavova říše byla rozsáhlá. Získal území od Čech, přes severní Moravu, Krakovsko až po Červeňsko (Červené hrady). Vyjmenuj státy, se kterými Boleslavova říše sousedila. Kyj, Rus, Říše, Hnězdno (Polsko), Maďarsko/Franské protektoráty na Moravě

Bořivoj I. – Bořivoj byl údajně synem bájněho knížete Hostivíta. Ve skutečnosti nevíme, či byl syn. Jedna teorie jej však spojuje s jednou panovnickou dynastií. Se kterým rodem je Bořivoj I. spojován? moravští Mojmírovci

Božena – Božena byla matkou Břetislava I. a zřejmě i manželkou knížete Oldřicha. Před tím, než ji Oldřich unesl a přivlastnil si ji, mohla již být vdaná za někoho jiného nebo stále náležela svému otci. Jak se tento zrazený muž jmenoval? Křesina/Krušina – lat. Crusinarius

sv. Václav – Václav je jako světec popisován a brán jen jako samostatná osobnost. V realitě měl však i nějaké blízké a přátele. Podle některých legend měl nejlepšího přítele/sluhu/družiníka. Jaké bylo jméno tohoto přítele, který se následně pokusil pomstít smrt svého pána? Podiven

Vojtěch – Vojtěch, zřejmě nepřímo, může za vyvraždění svého rodu. Jedním svým činem popudil vysoce postavené muže a mocenské rivaly, blízké knížeti a ti přísahali pomstu, kterou roku 995 uskutečnili. O jaký Vojtěchův čin se jednalo? Cizoložná žena

Boleslav II. – Vedle dokončení a založení pražského biskupství se Boleslavu II.

připisuje i jeden neblahý čin, se kterým však nejspíše neměl co dočinění a nemohl mu zabránit. O jaký čin šlo a uveď celý letopočet (den, měsíc, rok)? 28.9.995

Spytihněv – O knížeti Spytihněvovi téměř nic nevíme. Možná také proto, že vedl klidnou a prosperující politiku a kronikáři tak neměli o čem psát. Připisuje se mu ale jeden významný čin, i když pro něj nejsou důkazy. O jaký čin šlo? Založení Pražský hrad

Jaromír – Jaromír je bezpochyby nejtragičtější osobou našich dějin. Utrpení mu způsobila nejen jeho vlastní rodina, ale i mocnější protivníci. Jaké útrapy mu byly způsobeny a kdo je způsobil? Kastrace – Boleslav III./ Oslepení – Oldřich/ Zavraždění – zřejmě Vršovci.

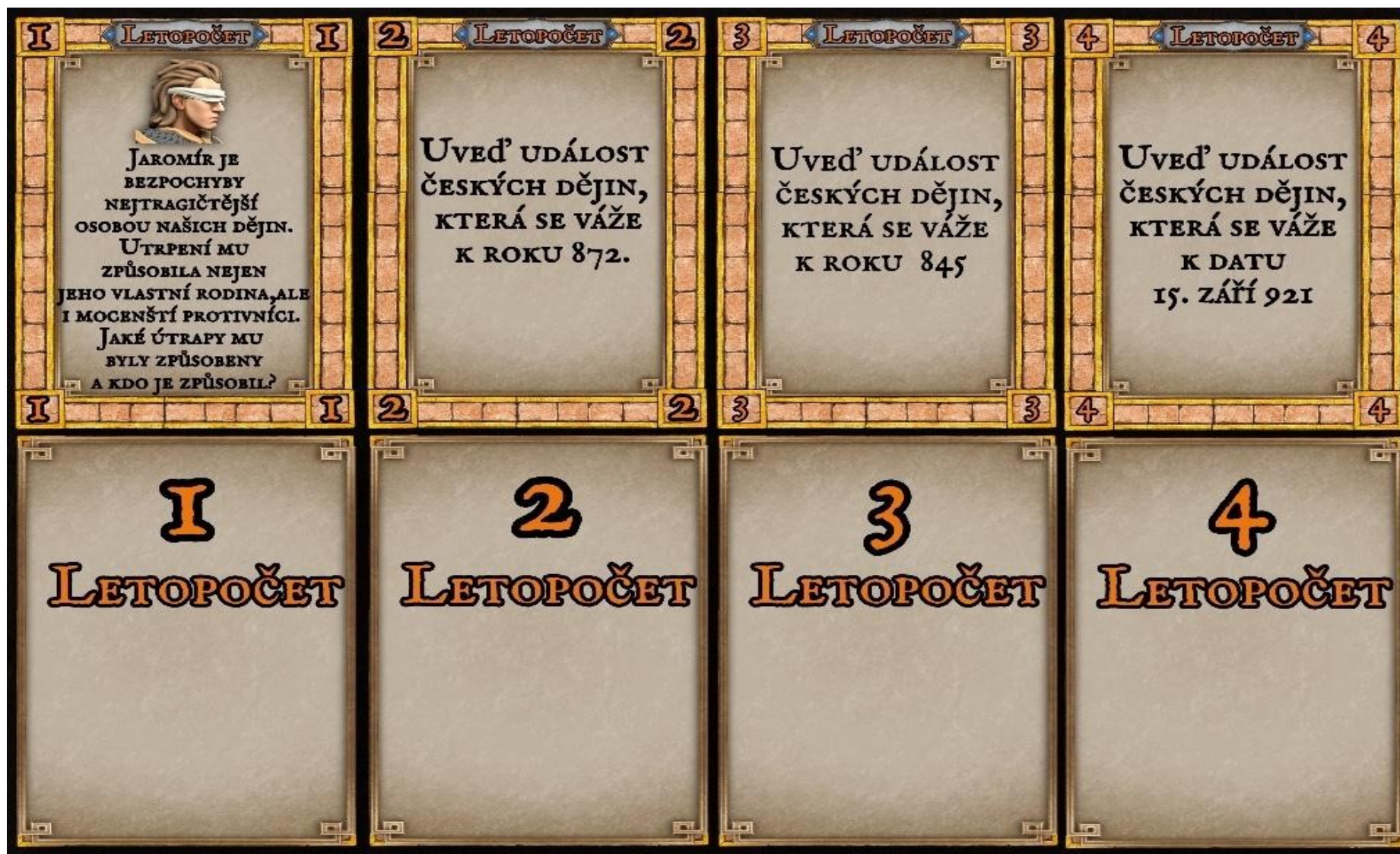
Vratislav I. – Tak, jako o knížeti Spytihněvovi víme jen střípky informací, jen o trochu více víme o jeho bratru Vratislavovi. Známe jeho rodinu, máme i společnou rekonstrukci podoby obou panovníků. Nevíme však příčiny smrti obou panovníků. U Vratislava však máme jednu zajímavou hypotézu, kterou vyslovil jistý maďarský kronikář Šimon z Kézy. Jak podle něj kníže Vratislav zemřel? V boji s Maďary

Ludmila – Ludmila byla jistě významnou a silnou ženou našich dějin. Její činy i rozpory se snachou Drahomírou jsou všem známy. Její původ je však nejistý. Byla zřejmě dcerou Pšovského nebo Milčanského knížete Slavibora. Jedno české město si ji však silně přivlastňuje, i když z něj pravděpodobně nepocházela. Které středočeské město, spojené s vinařstvím, to je? Mělník

Boleslav III. – Boleslav III. je znám jako obávaný panovník se vznětlivou povahou. Jeho činy jsou pečlivě zapsány. Jak ale přišel k přídomek Ryšavý? Kdo mu jej přidělil? Soudobý kronikář Dětmar z Merseburku

Oldřich – Oblíbenou Oldřichovou kratochvílí byl lov. Když při jedné takové honitbě projížděl lesy, údajně objevil poustevníka, svatého muže žijící mimo civilizaci. Jak se tento svatý muž jmenoval a co společně založili? Prokop, Sázavský klášter

Příloha č. 21: Návrhy herních karet





Příloha č. 22: Přežij středověk – návrh zápisového listu/deníku hráče

Přežij středověk – Deník hráče

Jméno:

Společenský stav: Pohlaví: Krása: Inteligence: Dědic/přítež:
BONUS:

Nemoc:

Trvalé následky nemoci:

Psychické/fyzické postižení:

Finanční situace rodiny: -3 -2 -1 0 1 2 3


	Obživa	Zdraví	Štěstí	Finance
Událost				
1. rok				
2. rok				
3. rok				
4. rok				
5. rok				
6. rok				
7. rok				
8. rok				
9. rok				
10. rok				
.				
.				
.				

Příloha č. 23: Fotodokumentace z testování her¹




¹ soukromý archiv autora, 2023













Příloha č. 24: Ukázky studií od výtvarnice Niny Danišové



Příloha č. 25: Ukázky ilustrací od výtvarnice Niny Danišové

